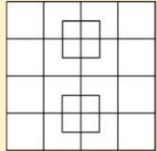





































ÖTLET - NAPTÁR 2018. JÚLIUS

| HÉTFŐ | KEDD | SZERDA | CSÜTÖRTÖK | PÉNTEK | | | | | | | | | | | | | | | | | | | | | | | | | | | | | | | |
|--|--|--|--|--|---|---|---|---|---|---|---|---|---|---|---|---|---|--|---|---|---|--|--|---|---|--|---|---|---|--|---|--|---|--|---|
| <p>2 Mennyi négyzetet látsz a képen?</p>  | <p>3 A leghosszabb gyík a varánusz, a 475 cm-es hosszát is eléri. Ebből a teste csak 143 cm, a többi a farka. Milyen hosszú a varánusz farka?</p>  <p>Nézz utána, hogy milyen hosszú lehet a nyelve!</p> | <p>4 A Parlament építése 1885-ben indult, és 19 évig tartott. Mikor készült el?</p>  <p>Nézz utána, hogy ki volt az építész!</p> | <p>5 Gyűjts 20 olyan szót, ami így kezdődik:</p>  <p>ha-</p> | <p>6   = 10    = 12    =    = ?</p> | | | | | | | | | | | | | | | | | | | | | | | | | | | | | | | |
| <p>9 Nézz utána, hogy mikor fedezte fel Kolombusz Kristóf Amerikát!</p>  <p>Hány évvel ezelőtt történt ez?</p> | <p>10 A betűkből állatok nevét tudod kirakni. Melyik a legkisebb állat?</p> <p>izsáfr ajmom breaz evet gistir orkkoild grüe amszrá</p> | <p>11 Állapítsd meg a szabályt, és folytatd a sort!</p> <p>18, 42, 66... 215, 199, 183...</p> | <p>12 Az állatkertben a tevék 315 kg takarmányt fogyasztottak el, a zebrák 136 kg-mal kevesebbet. Hány kg takarmányt ettek meg a zebrák? Hány kg takarmány fogyott el összesen?</p>  | <p>13 Használd a helyesírási szótárt! Hányadik oldalon találsz az alábbi szavakat?</p> <p>furulya lajhár sirály cserje mályva zörej csermely nyugdíj</p> | | | | | | | | | | | | | | | | | | | | | | | | | | | | | | | |
| <p>16 SODOKU 1-6</p> <table border="1" data-bbox="190 829 358 997"> <tr><td>1</td><td></td><td>5</td><td>3</td><td>6</td></tr> <tr><td>6</td><td></td><td></td><td>2</td><td></td></tr> <tr><td>3</td><td>5</td><td>2</td><td></td><td></td></tr> <tr><td></td><td></td><td></td><td>5</td><td>3</td><td>2</td></tr> <tr><td></td><td></td><td>1</td><td>6</td><td></td></tr> <tr><td>6</td><td>4</td><td>1</td><td></td><td>3</td></tr> </table> | 1 | | 5 | 3 | 6 | 6 | | | 2 | | 3 | 5 | 2 | | | | | | 5 | 3 | 2 | | | 1 | 6 | | 6 | 4 | 1 | | 3 | <p>17 A galápagosi óriásteknős átlagos testtömege 385 kg. A legnagyobb kergesteknős 961 kg. Mennyivel több a kergesteknős súlya?</p>  <p>Mennyi a két állat súlya összesen?</p> | <p>18 j vagy ly?</p> <p>muszá_ re_té_ var_ú karva_</p> | <p>19 Egy gyufaszál áthelyezésével tedd igazgá az egyenlőségeket!</p> <p> </p> | <p>20 Kakukktojás</p> <p>kutya, tigris, tehén, cica fiú, tanár, fodrász, ács cápa, béka, bálna, lazac játsszik, mesél, játék, rajzol</p> |
| 1 | | 5 | 3 | 6 | | | | | | | | | | | | | | | | | | | | | | | | | | | | | | | |
| 6 | | | 2 | | | | | | | | | | | | | | | | | | | | | | | | | | | | | | | | |
| 3 | 5 | 2 | | | | | | | | | | | | | | | | | | | | | | | | | | | | | | | | | |
| | | | 5 | 3 | 2 | | | | | | | | | | | | | | | | | | | | | | | | | | | | | | |
| | | 1 | 6 | | | | | | | | | | | | | | | | | | | | | | | | | | | | | | | | |
| 6 | 4 | 1 | | 3 | | | | | | | | | | | | | | | | | | | | | | | | | | | | | | | |
| <p>23 Keresd az elrejtett keresztneveket!</p> <p>Kicsim, reszelős a torkod? A kend szoknyája, ni, milyen rövid! Ha bármi ragályról tudsz, védekezz! Levi kitakarította a szobáját.</p> | <p>24 </p> | <p>25 Szórejtvény</p> <table border="1" data-bbox="862 1077 1120 1149"> <tr><td>1</td><td>2</td><td>3</td><td>4</td><td>5</td><td>6</td><td>7</td></tr> <tr><td>A</td><td>D</td><td>E</td><td>G</td><td>H</td><td>I</td><td>V</td></tr> </table> <p>56234 623 76412 712</p> | 1 | 2 | 3 | 4 | 5 | 6 | 7 | A | D | E | G | H | I | V | <p>26 Hány lába van 2 fecskének, 4 zebrának, és 3 katicának?</p>  | <p>27 Betűzsák</p>  <p>Alkoss szavakat a betűkből! Egy betű többször is felhasználhatsz!</p> | | | | | | | | | | | | | | | | | |
| 1 | 2 | 3 | 4 | 5 | 6 | 7 | | | | | | | | | | | | | | | | | | | | | | | | | | | | | |
| A | D | E | G | H | I | V | | | | | | | | | | | | | | | | | | | | | | | | | | | | | |
| <p>30  +  +  = 30  +  +  = 18  -  = 2  +  +  = ??</p> | <p>31 A kert felásása 3 órát vesz igénybe. Apuka már 2 órája és 10 perce dolgozik a kertben. Mennyi időt kell még ásnia?</p>  |  | <p>www.okoskaland.com</p> | <p>www.okoskalandwebshop.hu</p> | | | | | | | | | | | | | | | | | | | | | | | | | | | | | | | |